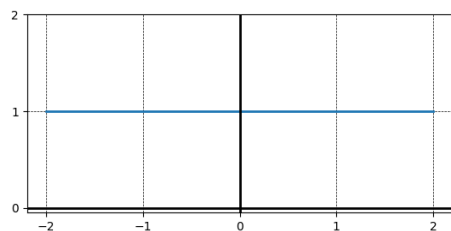


### Lecture Graphique / 01

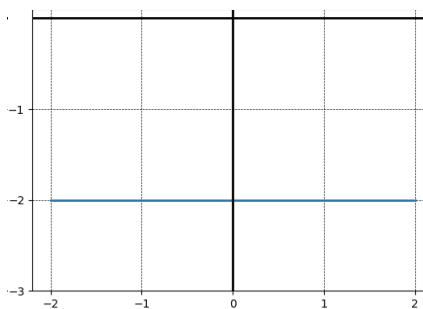
Déterminer le coefficient directeur  $m$  :



A	0	B	1
C	4	D	1

### Lecture Graphique / 02

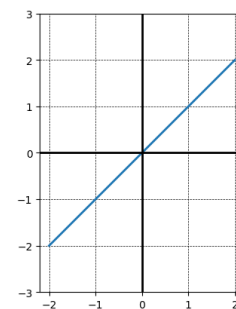
Déterminer le coefficient directeur  $m$  :



A	-2	B	0
C	-2	D	-8

### Lecture Graphique / 03

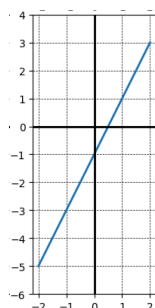
Déterminer le coefficient directeur  $m$  :



A	2	B	1
C	1	D	0

### Lecture Graphique / 04

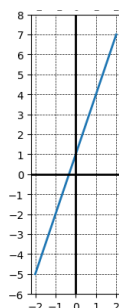
Déterminer le coefficient directeur  $m$  :



A	-1	B	$\frac{1}{2}$
C	1	D	2

### Lecture Graphique / 05

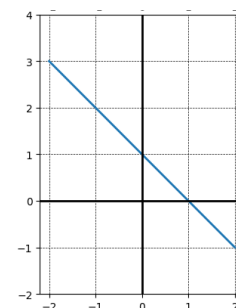
Déterminer le coefficient directeur  $m$  :



A	3	B	1
C	$\frac{1}{3}$	D	4

### Lecture Graphique / 06

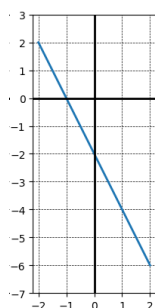
Déterminer le coefficient directeur  $m$  :



A	0	B	-1
C	1	D	2

### Lecture Graphique / 07

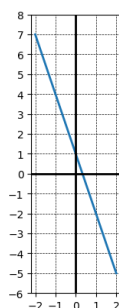
Déterminer le coefficient directeur  $m$  :



A	$-\frac{1}{2}$	B	-4
C	-2	D	-2

### Lecture Graphique / 08

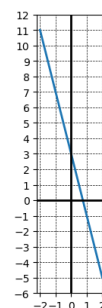
Déterminer le coefficient directeur  $m$  :



A	1	B	$-\frac{1}{3}$
C	-2	D	-3

### Lecture Graphique / 09

Déterminer le coefficient directeur  $m$  :



A	-4	B	3
C	$-\frac{1}{4}$	D	-1

3

3

3

4

3

3

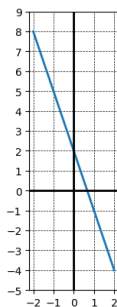
4

4

4

### Lecture Graphique / 10

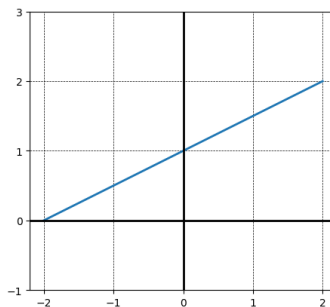
Déterminer le coefficient directeur  $m$  :



A	-1	B	-3
C	2	D	$-\frac{1}{3}$

### Lecture Graphique / 11

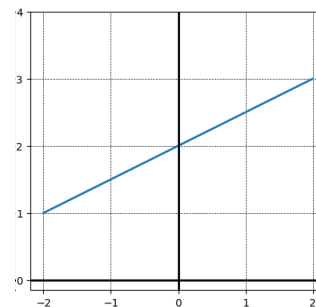
Déterminer le coefficient directeur  $m$  :



A	2	B	$\frac{3}{2}$
C	$\frac{1}{2}$	D	1

### Lecture Graphique / 12

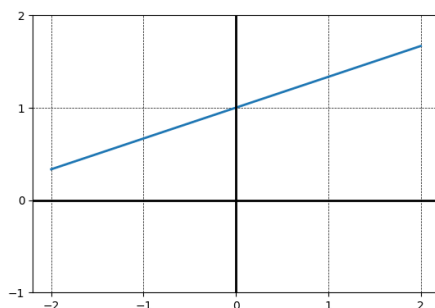
Déterminer le coefficient directeur  $m$  :



A	2	B	2
C	$\frac{5}{2}$	D	$\frac{1}{2}$

### Lecture Graphique / 13

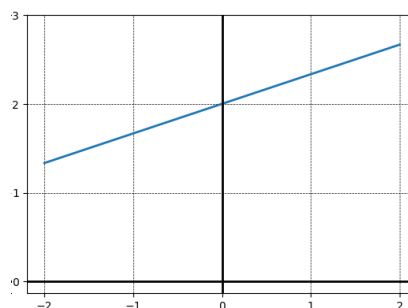
Déterminer le coefficient directeur  $m$  :



A	$\frac{1}{3}$	B	1
C	3	D	$\frac{4}{3}$

### Lecture Graphique / 14

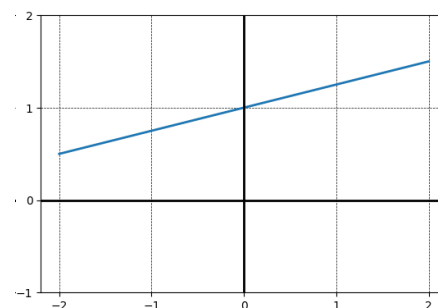
Déterminer le coefficient directeur  $m$  :



A	$\frac{7}{3}$	B	$\frac{1}{3}$
C	2	D	3

### Lecture Graphique / 15

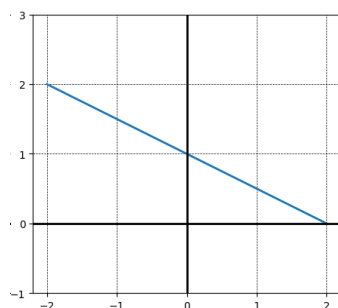
Déterminer le coefficient directeur  $m$  :



A	4	B	$\frac{5}{4}$
C	$\frac{1}{4}$	D	1

### Lecture Graphique / 16

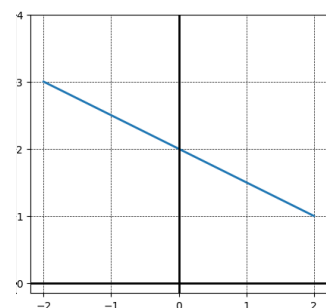
Déterminer le coefficient directeur  $m$  :



A	1	B	-2
C	$\frac{1}{2}$	D	$-\frac{1}{2}$

### Lecture Graphique / 17

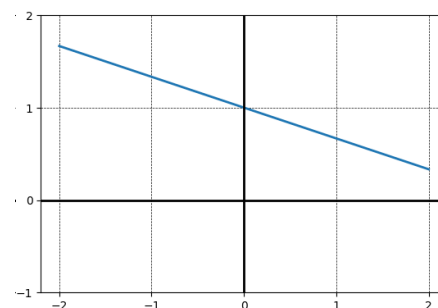
Déterminer le coefficient directeur  $m$  :



A	$-\frac{1}{2}$	B	2
C	-2	D	$\frac{3}{2}$

### Lecture Graphique / 18

Déterminer le coefficient directeur  $m$  :



A	$\frac{2}{3}$	B	$-\frac{1}{3}$
C	1	D	-3

5

5

4

5

5

5

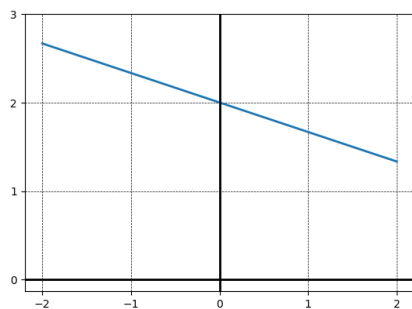
6

6

6

### Lecture Graphique / 19

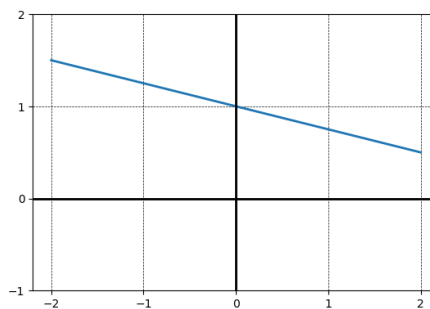
Déterminer le coefficient directeur  $m$  :



A	$-3$	B	$\frac{5}{3}$
C	$-\frac{1}{3}$	D	$2$

### Lecture Graphique / 20

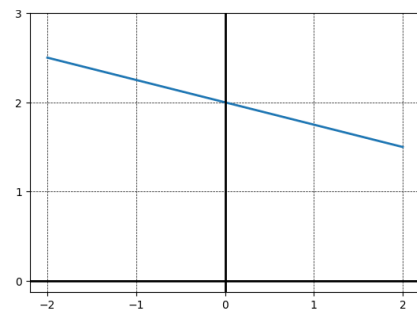
Déterminer le coefficient directeur  $m$  :



A	$1$	B	$-4$
C	$\frac{3}{4}$	D	$-\frac{1}{4}$

### Lecture Graphique / 21

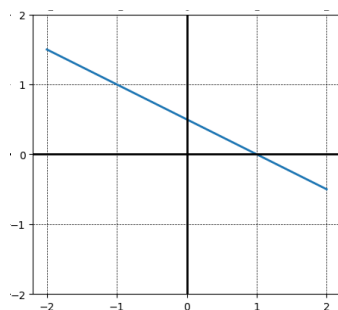
Déterminer le coefficient directeur  $m$  :



A	$-\frac{1}{4}$	B	$2$
C	$-4$	D	$\frac{7}{4}$

### Lecture Graphique / 22

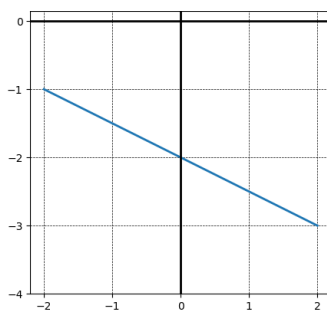
Déterminer le coefficient directeur  $m$  :



A	$0$	B	$-\frac{1}{2}$
C	$\frac{1}{2}$	D	$-2$

### Lecture Graphique / 23

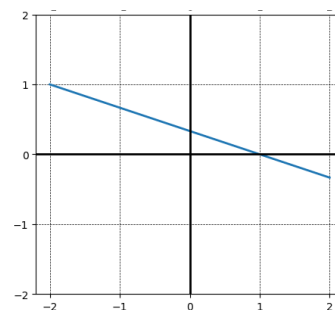
Déterminer le coefficient directeur  $m$  :



A	$-2$	B	$-\frac{5}{2}$
C	$-\frac{1}{2}$	D	$-2$

### Lecture Graphique / 24

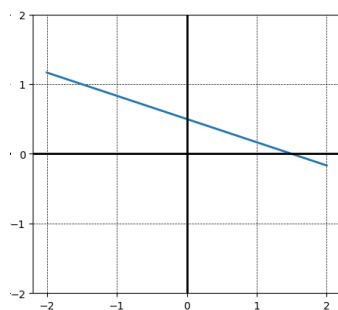
Déterminer le coefficient directeur  $m$  :



A	$\frac{1}{3}$	B	$-3$
C	$0$	D	$-\frac{1}{3}$

### Lecture Graphique / 25

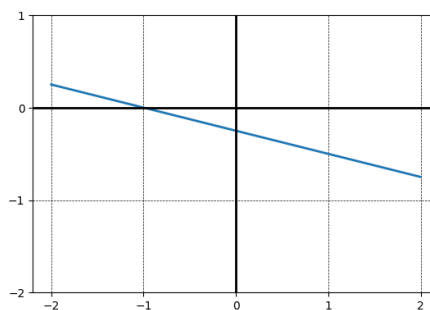
Déterminer le coefficient directeur  $m$  :



A	$-\frac{1}{3}$	B	$\frac{1}{2}$
C	$-3$	D	$\frac{1}{6}$

### Lecture Graphique / 26

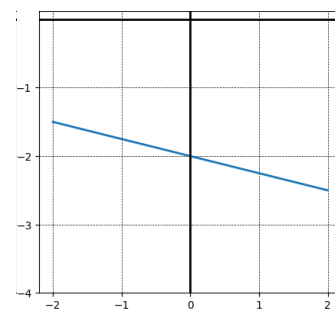
Déterminer le coefficient directeur  $m$  :



A	$-\frac{1}{2}$	B	$-\frac{1}{4}$
C	$-\frac{1}{4}$	D	$-4$

### Lecture Graphique / 27

Déterminer le coefficient directeur  $m$  :



A	$-4$	B	$-\frac{9}{4}$
C	$-\frac{1}{4}$	D	$-2$

6

6

6

7

7

7

7

7

7



